







Name \_\_\_\_\_

Date \_\_\_\_\_

Count the objects in 10s

 <p>_____ pence</p> <p>10 20 30 40 50 60 70 80 90 100</p>	 <p>_____ eggs</p> <p>10 20 30 40 50 60 70 80 90 100</p>	 <p>_____ hearts</p> <p>10 20 30 40 50 60 70 80 90 100</p>
 <p>_____ pins</p> <p>10 20 30 40 50 60 70 80 90 100</p>	 <p>_____ toes</p> <p>10 20 30 40 50 60 70 80 90 100</p>	 <p>_____ stars</p> <p>10 20 30 40 50 60 70 80 90 100</p>